

GUIA DE HISTORIA Y GEOGRAFÍA N°1

2° SEMANA

2020

Alumno(a)	Curso: 4° Básico	Nota:
Profesor(a): Sara Valdés A	Fecha : 23 / 03 / 2020	Puntaje: / 22p

Objetivo: Ubicar lugares y elementos, utilizando líneas de referencia y puntos cardinales. Zonas Climáticas.

Eje Temático: Identificar y describir Paralelos y Meridianos

1. Habilidades a medir:

a) Identificar.

b) Describir.

c) Resolver

Selección Única: Lea atentamente cada uno de los enunciados y responde marcando la alternativa correcta

Ítem I: Conocer (1 ptos c/u)

1.-Las coordenadas geográficas son:

- a) Paralelos y latitud
- b) Meridianos y longitud
- c) Paralelos y Meridianos

2.- Los paralelos son:

- a) Círculos imaginarios que cruzan el planeta de Polo a Polo
- b) Son líneas que dividen el Este y Oeste
- c) Son círculos que cruzan la Tierra a todo su ancho.

3.- Un paralelo al indicar la distancia y dirección respecto de la línea del Ecuador,

Indica la _____ de un lugar

- a) Longitud
- b) Masa
- c) Latitud

4) Desde la línea del ecuador hacia el Polo Norte hay un total de:

- a) 180 paralelos
- b) 90 paralelos
- c) 360 paralelos

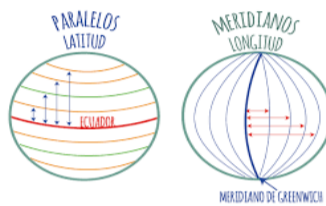
5.- El trópico de cáncer es un paralelo que está:

- a) En el hemisferio Sur
- b) En el hemisferio Norte
- c) En el centro de la Tierra.

6.- El Continente Americano se divide en tres regiones geográficas y son:

- a) América del Norte, América Central y Oceanía
- b) América del Norte, Centro América y Asia
- c) América del Norte, América Central y América del Sur

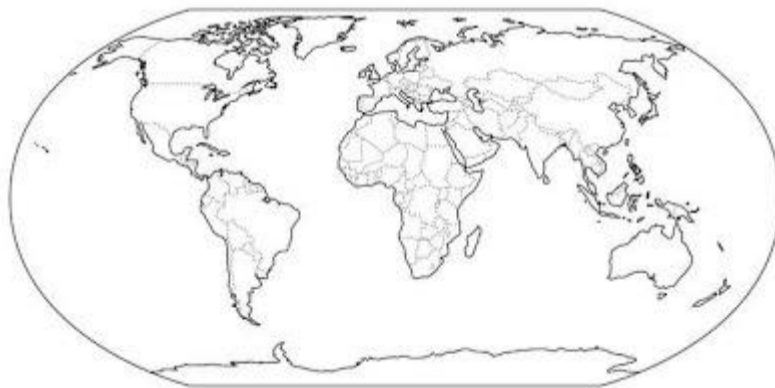
7.-Cuál es la Línea de referencia que divide a nuestro planeta en dos hemisferio Norte y Sur. (Marca con una x)



- a) Trópico de Capricornio
- b) Trópico de Cáncer
- c) Línea del Ecuador
- d) Meridiano de Greenwich.

8.- De acuerdo a la siguiente imagen. Qué continente se encuentra solo en el Hemisferio Sur.

- a) Asia
- b) Europa
- c) Oceanía
- d) América



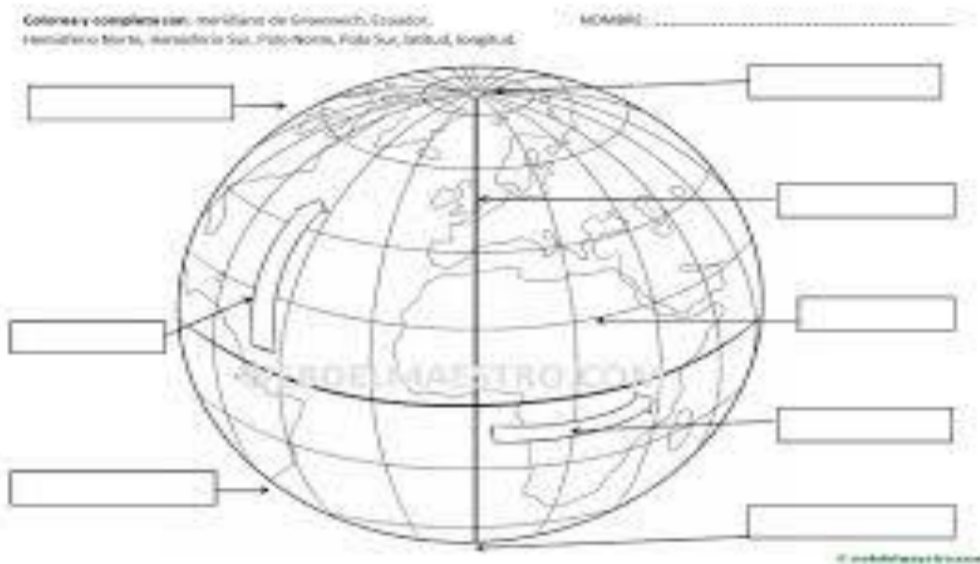
9) El nombre de la Línea imaginaria que divide el planeta en dos Hemisferios:

a) Polo Norte

b) Ecuador

c) Meridiano

10.- Colorea y completa con: Meridiano de Greenwich, Ecuador, Hemisferio Norte, Hemisferio Sur, Polo Norte, Polo Sur, Latitud y longitud.



Trabaja en el mapa

1. Marca con rojo la línea del Ecuador
2. Marca con verde el meridiano de Greenwich
3. Pinta de amarillo el hemisferio oeste
4. Remarca con azul los paralelos del hemisferio sur.

