



**GUIA N1 DE MATEMATICA NIVEL 1 (01-03-2021 ) LISTA "A Y B"**

Alumno(a):	Curso: 1 básico	Nota:
Profesor(a): Pilar Meneses	Puntaje:	

o Estimado estudiante ya que esta en clases desde tu hogar te envié a completar esta actividad la cual debes responder y entregarla la clase siguiente , la evaluación de este trabajo es acumulativo el cual tendrá incidencia en el promedio de tu asignatura


1. Eje Temático: NUMEROS

2. Habilidades a medir:

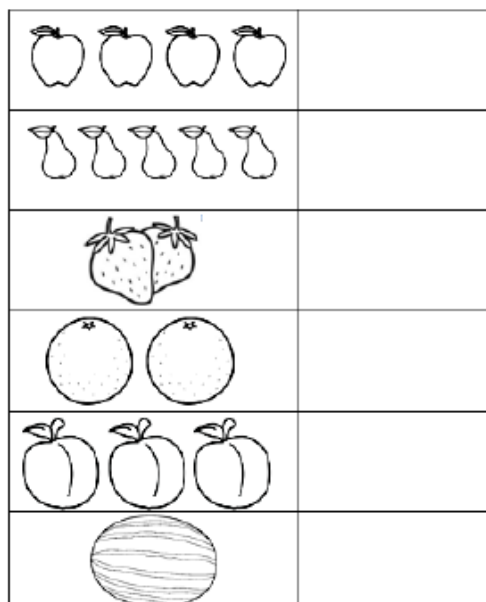
a) REPRESENTAR

**Actividad**

1. Empareja los conjuntos que tienen la misma cantidad de animales, uniéndolos con una línea:








2. Representa con palos de helado la cantidad de frutas que hay en cada rectángulo:





3. Indica el número de palos de helado que hay en cada caso:

4. Dibuja tantos palos de helado como indica el número:

5	
2	
4	
1	
3	

**COLEGIO SAN FELIPE**

**RBD 24966-1**

Avda. Laguna Sur 7241

Fono: 232753100

PUDAHUEL

[direccion24966@gmail.com](mailto:direccion24966@gmail.com)



**Corporación Educacional A y G**

*“Familia y Colegio, pilar de  
formación de nuestros  
niños y jóvenes”*

**COLEGIO SAN FELIPE**

**RBD 24966-1**

Avda. Laguna Sur 7241

Fono: 232753100

PUDAHUEL

[direccion24966@gmail.com](mailto:direccion24966@gmail.com)



**Corporación Educacional A y G**

*“Familia y Colegio, pilar de  
formación de nuestros  
niños y jóvenes”*