

GUIA N2 MATEMATICA NIVEL 1 (02-03-2021) LISTA "A Y B"

Alumno(a):	Curso: 1 básico	Nota:
Profesor(a): Pilar Meneses	Puntaje:	

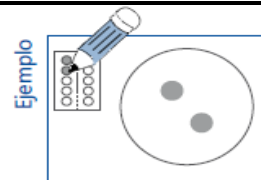
o Estimado estudiante ya que esta en clases desde tu hogar te envié a completar esta actividad la cual debes responder y entregarla la clase siguiente , la evaluación de este trabajo es acumulativo el cual tendrá incidencia en el promedio de tu asignatura

1. OA1 Contar números OA2 leer numerales Eje Temático: NUMEROS

2. Habilidades a medir:

a) REPRESENTAR

1. Cuenta y pinta.



a)	b)
c)	d)
e)	f)

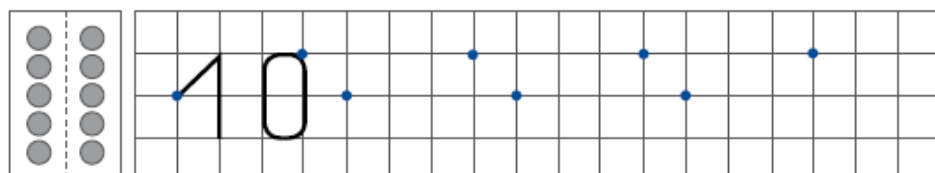
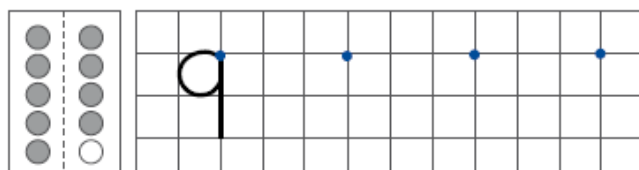
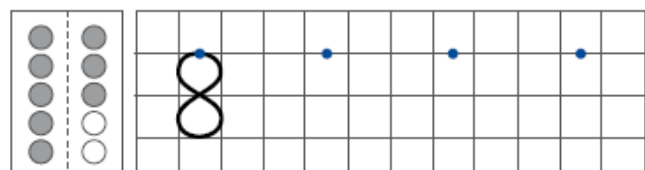
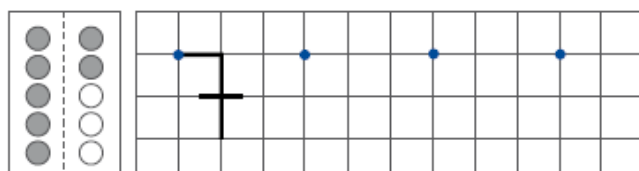
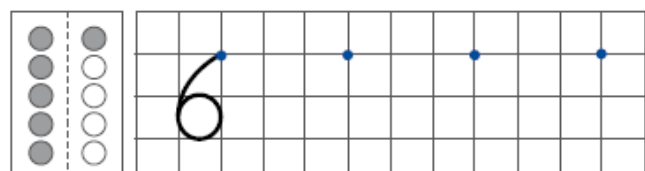
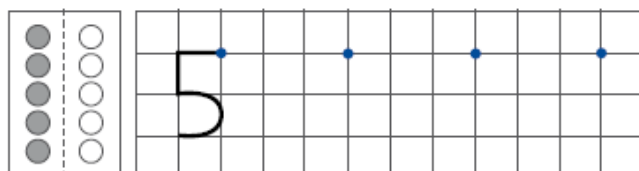
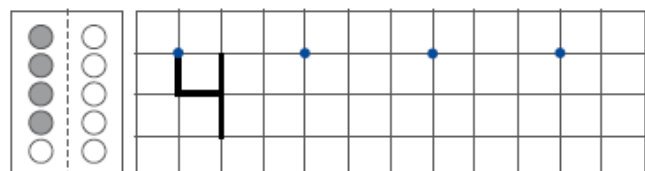
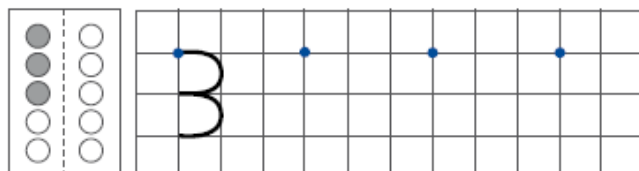
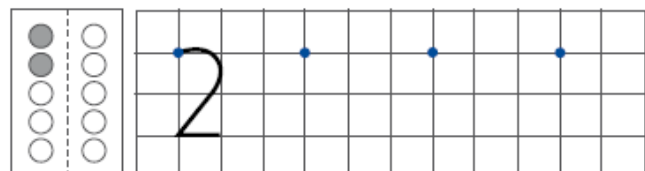
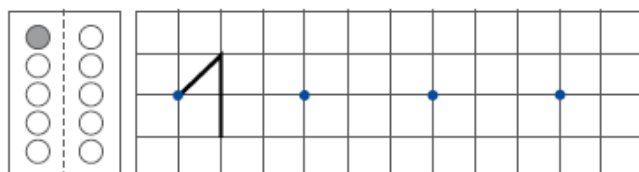
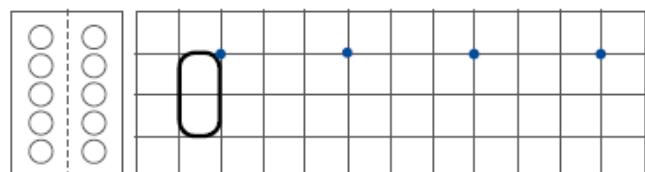
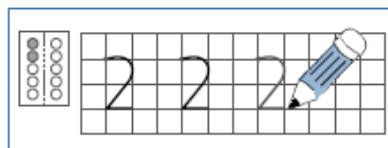
Desafío final

Cuenta y marca con una X el número correspondiente.

<input type="checkbox"/> 5		<input type="checkbox"/> 6		<input type="checkbox"/> 3	
<input type="checkbox"/> 6		<input type="checkbox"/> 7		<input type="checkbox"/> 4	

1. Escribe 3 veces cada número.

Ejemplo



Desafío final

Marca con una X el número 5 en el reloj y el 9 en el calendario.



Marzo de 2012						
Lu	Ma	Mi	Ju	Vi	Sa	Do
	1	2	3	4	5	6
7	8	9	10	11	12	13
14	15	16	17	18	19	20
21	22	23	24	25	26	27
28	29	30	31			

Observa las figuras. Cuenta y escribe el número que corresponde.

