



### GUIA N7 DE MATEMATICA NIVEL 1 LISTA "A Y B RETROALIMENTACION

Alumno(a):	Curso: 1 básico	Nota:
Profesor(a): Pilar Meneses	Puntaje:	

o Estimado estudiante ya que estás en clases desde tu hogar te envié a completar esta actividad la cual debes responder y entregarla la clase siguiente, la evaluación de este trabajo es acumulativo el cual tendrá incidencia en el promedio de tu asignatura

o OBJETIVO. Leer y contar numerales del 0 al 10

1. Eje Temático: NUMEROS

2. Habilidades a medir:

a) REPRESENTAR

1. Cuenta cuantos animalitos hay en cada fila y escribe el número (4 puntos)



2. Completa la secuencia numérica (7 puntos)





3. Escribe el sucesor de cada número (6 puntos)

6 →

1 →

4 →

9 →

7 →

3 →

4. Escribe el antecesor de cada número (6 puntos)

← 7

← 5

← 9


← 3

← 1

← 8

5. Ordena de mayor a menor los siguientes dígitos (9 puntos)

5 3 9 6 10 2 8 1 7 4

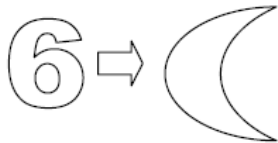
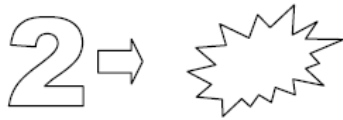
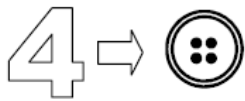
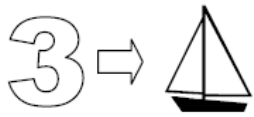


1 10 5 9 3 7 2 8 0

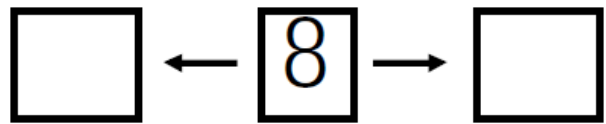
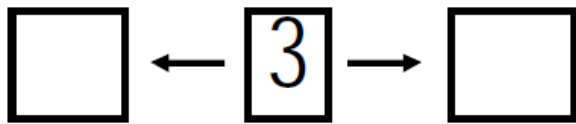




6. Dibuja los elementos que faltan para completar el número



\* Pon el número anterior y el posterior.



**COLEGIO SAN FELIPE**

**RBD 24966-1**

Avda. Laguna Sur 7241

Fono: 232753100

PUDAHUEL

[direccion24966@gmail.com](mailto:direccion24966@gmail.com)



**Corporación Educacional A y G**

*“Familia y Colegio, pilar de  
formación de nuestros  
niños y jóvenes”*

*Dictado de números*

