

GUIA N 10 DE MATEMATICA NIVEL 1 LISTA “A Y B UNIDAD 1

Alumno(a):	Curso: 1 básico	Nota:
Profesor(a): Pilar Meneses	Puntaje:	

○ Estimado estudiante ya que estás en clases desde tu hogar te envió a completar esta actividad la cual debes responder y entregarla la clase siguiente, la evaluación de este trabajo es acumulativo el cual tendrá incidencia en el promedio de tu asignatura

○ OBJETIVO. Leer y contar numerales del 0 al 10

1. Eje Temático: NUMEROS

2. Habilidades a medir:


a) REPRESENTAR

I. Selecciona la alternativa correcta:

1.- En esta bolsa hay:

a) 8 cubos

b) 9 cubos



2.- El número **7** se lee:

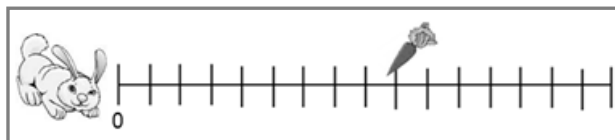
a) Siete

b) Seis

3.- ¿Cuántos saltos debe dar el conejito para comer la zanahoria?

a) 6

b) 9



II. Observa, cuenta y responde:

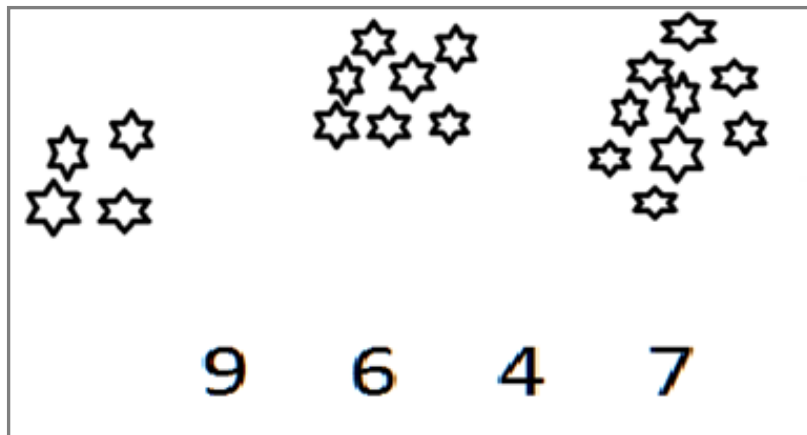
4.- Dibuja 6 canicas en la bolsa:




5.- Cuenta la cantidad de canicas que hay en la bolsa y anota el número:



6.- Une con una línea la cantidad de estrella con su número correspondiente:



7.- Encierra en un círculo la cantidad que indica el número:

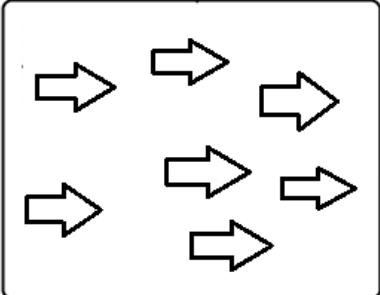
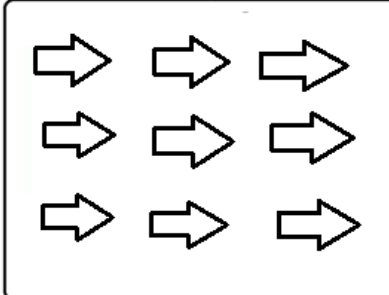


8.- Encierra en un círculo el número correspondiente a la cantidad presentada:

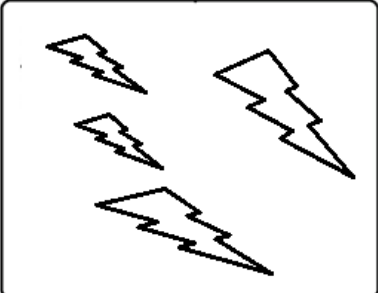

a)  8 1 6

b)  7 4 9

9.- Colorea el grupo que tiene la mayor cantidad de flechas:

A  B 

10.- Colorea el grupo que tiene la mayor cantidad de flechas:

A  B 

COLEGIO SAN FELIPE

RBD 24966-1

Avda. Laguna Sur 7241

Fono: 232753100

PUDAHUEL

direccion24966@gmail.com



Corporación Educacional A y G

*“Familia y Colegio, pilar de
formación de nuestros
niños y jóvenes”*

