

GUIA N 12 DE MATEMATICA NIVEL 1 LISTA "A Y B UNIDAD 1

Alumno(a):	Curso: 1 básico	Nota:
Profesor(a): Pilar Meneses	Puntaje:	

o Estimado estudiante ya que estás en clases desde tu hogar te envié a completar esta actividad la cual debes responder y entregarla la clase siguiente, la evaluación de este trabajo es acumulativo el cual tendrá incidencia en el promedio de tu asignatura

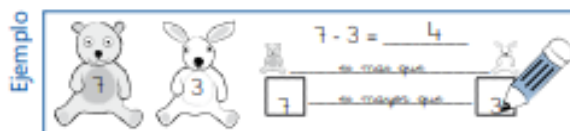
o OBJETIVO. Leer y contar numerales del 0 al 10

1. Eje Temático: NUMEROS


2. Habilidades a medir:

a) REPRESENTAR

1. Representa con tus cubos y completa.



a)




$4 - 1 = \underline{\hspace{2cm}}$

es unidades (más o menos que)

1 es 4 (mayor o menor que)

b)




$6 - 4 = \underline{\hspace{2cm}}$

es unidades (más o menos que)

6 es 4 (mayor o menor que)

c)



$6 - 1 = \underline{\hspace{2cm}}$

es unidades (más o menos que)

6 es 1 (mayor o menor que)

Completa.

Desafío final

a)	b)
$17 - 13 = \underline{\hspace{2cm}}$	$14 - 12 = \underline{\hspace{2cm}}$
17 es <u> </u> 13	14 es <u> </u> 12

1. Compara y completa.

Ejemplo

¿Cuál número es el menor?
 ¿Cuál número es el mayor?
 Ordena los números de menor a mayor

<p>a)</p> <p>¿Cuál número es el menor? <input type="text"/></p> <p>¿Cuál número es el mayor? <input type="text"/></p> <p>Ordena los números de menor a mayor.</p> <input type="text"/> <input type="text"/> <input type="text"/>	<p>b)</p> <p>¿Cuál número es el menor? <input type="text"/></p> <p>¿Cuál número es el mayor? <input type="text"/></p> <p>Ordena los números de menor a mayor.</p> <input type="text"/> <input type="text"/> <input type="text"/>
<p>c)</p> <p>¿Cuál número es el menor? <input type="text"/></p> <p>¿Cuál número es el mayor? <input type="text"/></p> <p>Ordena los números de menor a mayor.</p> <input type="text"/> <input type="text"/> <input type="text"/> <input type="text"/>	<p>d)</p> <p>¿Cuál número es el menor? <input type="text"/></p> <p>¿Cuál número es el mayor? <input type="text"/></p> <p>Ordena los números de menor a mayor.</p> <input type="text"/> <input type="text"/> <input type="text"/> <input type="text"/>

Desafío final Ordena los siguientes números.

<input type="text" value="6"/> <input type="text" value="16"/> <input type="text" value="4"/> <input type="text" value="14"/>	
De menor a mayor 	De mayor a menor

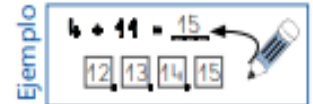
1. Suma.

Ejemplo

$11 + 3 = 14$

<p>a)</p> <p>$7 + 8 = \underline{\hspace{2cm}}$</p>	<p>b)</p> <p>$12 + 3 = \underline{\hspace{2cm}}$</p>
<p>c)</p> <p>$5 + 11 = \underline{\hspace{2cm}}$</p>	<p>d)</p> <p>$6 + 13 = \underline{\hspace{2cm}}$</p>

2. Suma.



<p>a) $14 + 3 = \underline{\quad}$ </p> <p style="text-align: center;">□ □ □</p> <p style="text-align: center;">1 2 3 4 5 6 7 8 9 10 11 12 13 14 15 16 17 18 19 20</p>	<p>b) $6 + 13 = \underline{\quad}$ </p> <p style="text-align: center;">□ □ □ □ □ □</p> <p style="text-align: center;">1 2 3 4 5 6 7 8 9 10 11 12 13 14 15 16 17 18 19 20</p>
<p>c) $7 + 4 = \underline{\quad}$ </p> <p style="text-align: center;">□ □ □ □</p> <p style="text-align: center;">1 2 3 4 5 6 7 8 9 10 11 12 13 14 15 16 17 18 19 20</p>	<p>d) $3 + 12 = \underline{\quad}$ </p> <p style="text-align: center;">□ □ □</p> <p style="text-align: center;">1 2 3 4 5 6 7 8 9 10 11 12 13 14 15 16 17 18 19 20</p>

Completa.

Desafío final

<p>a)</p> <p>$13 + 5 = \underline{\quad}$</p> <p>14,</p>	<p>b)</p> <p>$7 + 11 = \underline{\quad}$</p> <p>12,</p>	<p>c)</p> <p>$4 + 14 = \underline{\quad}$</p> <p>15,</p>
---	---	---

Desafío final

Suma.

<p>a)</p> <p>$13 + 6 = \underline{\quad}$</p>	<p>b)</p> <p>$11 + 5 = \underline{\quad}$</p>	<p>c)</p> <p>$14 + 3 = \underline{\quad}$</p>
--	--	--

1. Suma.

Ejemplo

<p>a)</p> <div style="border: 1px solid black; width: 100%; height: 100%; position: relative;"> <div style="border-left: 1px dashed black; border-right: 1px dashed black; width: 100%; height: 100%;"></div> </div> <p style="text-align: center;">13 + 5 = ____</p>	<p>b)</p> <div style="border: 1px solid black; width: 100%; height: 100%; position: relative;"> <div style="border-left: 1px dashed black; border-right: 1px dashed black; width: 100%; height: 100%;"></div> </div> <p style="text-align: center;">6 + 11 = ____</p>
<p>c)</p> <div style="border: 1px solid black; width: 100%; height: 100%; position: relative;"> <div style="border-left: 1px dashed black; border-right: 1px dashed black; width: 100%; height: 100%;"></div> </div> <p style="text-align: center;">3 + 16 = ____</p>	<p>d)</p> <div style="border: 1px solid black; width: 100%; height: 100%; position: relative;"> <div style="border-left: 1px dashed black; border-right: 1px dashed black; width: 100%; height: 100%;"></div> </div> <p style="text-align: center;">18 + 1 = ____</p>
<p>e)</p> <div style="border: 1px solid black; width: 100%; height: 100%; position: relative;"> <div style="border-left: 1px dashed black; border-right: 1px dashed black; width: 100%; height: 100%;"></div> </div> <p style="text-align: center;">14 + 2 = ____</p>	<p>f)</p> <div style="border: 1px solid black; width: 100%; height: 100%; position: relative;"> <div style="border-left: 1px dashed black; border-right: 1px dashed black; width: 100%; height: 100%;"></div> </div> <p style="text-align: center;">12 + 4 = ____</p>

Dictado de números

COLEGIO SAN FELIPE

RBD 24966-1

Avda. Laguna Sur 7241

Fono: 232753100

PUDAHUEL

direccion24966@gmail.com



Corporación Educacional A y G

*“Familia y Colegio, pilar de
formación de nuestros
niños y jóvenes”*

--	--