

## Guía de Historia, Geografía y Ciencias Sociales

Alumno(a):	Curso: 2° Básico	Nota:
Profesor(a): María Eugenia Gaete	Fecha: 21 /04/2021	

1. Objetivo: <b>OA 6</b> Leer y dibujar planos simples de su entorno, utilizando puntos de referencia, categorías de posición relativa y simbología pictórica.
2. Eje Temático: Geografía
3. Habilidades a medir: <ul style="list-style-type: none"> <li>• Leer y comunicar</li> <li>• Orientarse en el espacio</li> </ul>

### ¿Cómo me puedo ubicar?

Las personas siempre hemos necesitado **orientarnos en el espacio** para desarrollar nuestras actividades diarias. Hace mucho tiempo, los primeros navegantes se orientaban mirando las estrellas, para no perder el rumbo y extraviarse. Hoy, la tecnología nos permite saber con precisión dónde nos encontramos, utilizando, por ejemplo, los mapas satelitales.

### Los puntos cardinales

Para orientarnos en el espacio es importante conocer los **puntos cardinales**. Son cuatro: **Norte, Sur, Este y Oeste**. Una forma simple de escribirlos es usando solo la primera letra de sus nombres: **N, S, E y O**.

### Trabajemos con los puntos cardinales

Realiza un dibujo sencillo siguiendo las pistas.

#### Pistas:

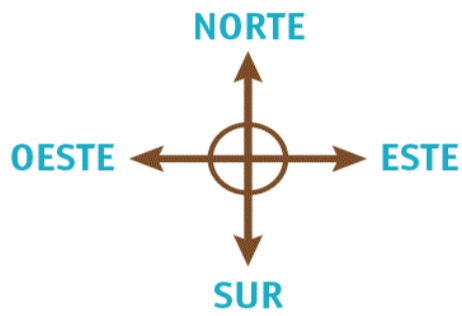
- Un lago al centro del recuadro.
- Al norte del lago dibuja unas nubes.
- Algunas montañas al este del lago.
- Al oeste del lago una casa.
- Al sur del lago un árbol.



1. Comienza en el triángulo.



- Desde el triángulo avanza 5 espacios hacia el Sur
- Luego mueve 3 espacios hacia el Oeste.
- Ahora avanza 2 espacios al Norte.
- Avanza al Este 1 espacio.

Marca una X. ¿Dónde estás tú ahora?



		Zoológico 					
						Plaza 	
			Colegio 				
					Piscina 		