

Guía de Historia, Geografía y Ciencias Sociales

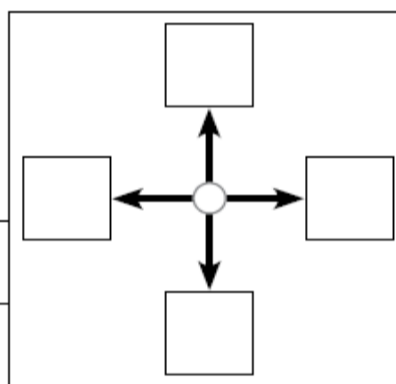
Alumno(a):	Curso: 2° Básico	Nota:
Profesor(a): María Eugenia Gaete	Fecha: 06 /05/2021	

1. Objetivo: **(OA 7)** Ubicar Chile, Santiago, la propia región y su capital en el globo terráqueo o en mapas, y describir la ubicación relativa de países limítrofes y de otros países de América del Sur, utilizando los puntos cardinales.
2. Eje Temático: Geografía
3. Habilidades a medir:
 - Análisis y trabajo con fuentes

Reforcemos:

Usamos la rosa de los vientos


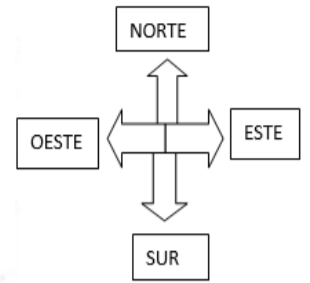
1. Completa la rosa de los vientos con las letras que corresponden.
2. Pon tu lápiz en la estrella y avanza por la cuadrícula el número de cuadros que se indica:
 - a. Dos cuadros hacia el norte.
 - b. Tres cuadros hacia el este.
 - c. Tres cuadros hacia el norte.
 - d. Cinco cuadros hacia el este.
 - e. Cuatro cuadros hacia el sur.
 - f. Dos cuadros hacia el oeste.



★									

3. Dibuja una estrella roja en el cuadro donde llegaste y luego compara con tus compañeros si todos llegaron al mismo cuadro.
4. Escribe en tu cuaderno las instrucciones con otro camino posible para llegar al mismo lugar.

➤ Observa la siguiente imagen, usa los puntos cardinales y luego responde



- a. Al sur de la plaza se encuentra el _____.
- b. Julián vive al sur de la _____.
- c. El colegio se encuentra al _____ del edificio y al _____ del almacén.