

Guía de N°2 de Matemáticas 3° año Básico

Alumno(a):	Curso: 3 año básico	Nota:
Profesor(a): Sandra Miranda Navarrete	Puntaje:	

1. Objetivo: **MA02 OA 09** "Demostrar que comprende la adición y la sustracción en el ámbito del 0 al 100: usando un lenguaje cotidiano y matemático para describir acciones desde su propia experiencia; resolviendo problemas con una variedad de representaciones concretas y pictóricas, aplicando algoritmo de la adición y sustracción sin considerar reserva; creando problemas matemáticos en contextos familiares y resolviéndolos."
2. Eje Temático: **Números y Operaciones.**
3. Habilidades a medir:
 - a) Resolver problemas aplicando diversas estrategias.
 - b) Argumentar y comunicar los procedimientos utilizados.
 - c) Modelar: Aplicar y seleccionar modelos que involucren sumas, restas y orden de cantidades.

1.- ADICIONES (SUMAS)

Resuelve las siguientes actividades, siguiendo las instrucciones que aparecen en los enunciados

ACTIVIDADES: ADICIONES CON NÚMEROS MENORES A 50

Resuelva las adiciones y pinte del mismo color los computadores con el mismo resultado.

$\begin{array}{r} 12 \\ + 12 \\ \hline \end{array}$	$\begin{array}{r} 35 \\ + 13 \\ \hline \end{array}$	$\begin{array}{r} 13 \\ + 11 \\ \hline \end{array}$
$\begin{array}{r} 26 \\ + 13 \\ \hline \end{array}$	$\begin{array}{r} 15 \\ + 14 \\ \hline \end{array}$	$\begin{array}{r} 26 \\ + 20 \\ \hline \end{array}$
$\begin{array}{r} 16 \\ + 2 \\ \hline \end{array}$	$\begin{array}{r} 27 \\ + 12 \\ \hline \end{array}$	

ACTIVIDADES: ADICIONES Y SUSTRACCIONES CON NÚMEROS MENORES A 50 (III)

1. Complete los espacios de los siguientes problemas:

<p>a)</p> <p>Tengo 25 lápices</p>	<p>Me regalaron 20 más</p>	<p>Ahora tengo lápices</p>
-----------------------------------	----------------------------	----------------------------------

<p>b)</p> <p>Tengo 13 láminas</p>	<p>Gané 15 más</p>	<p>Ahora tengo láminas</p>
-----------------------------------	--------------------	----------------------------------

<p>c)</p> <p>Hay 20 libros</p>	<p>Saco 7 libros</p>	<p>Ahora hay libros</p>
--------------------------------	----------------------	-------------------------------




<p>d)</p> <p>Tengo 18 láminas</p>	<p>Tengo 11 láminas</p>	<p>Tenemos láminas</p>
-----------------------------------	-------------------------	------------------------------

<p>e)</p> <p>Tengo 33 bolitas</p>	<p>Perdi 3 bolitas</p>	<p>Ahora tengo bolitas</p>
-----------------------------------	------------------------	----------------------------------

2.- SUSTRACCIONES (RESTAS)

Lee atentamente los siguientes ejercicios, completando con el número que falta en los espacios punteados.

c) Hay 32 huevos en la cocina el gato bota 6 de ellos al suelo Quedan huevos






Escribe acá la expresión numérica

e) Tenía 32 vasos. Quebré 20 vasos. Ahora hay vasos.



Escribe acá la expresión numérica

g) Estoy en el piso 18. bajo 6 pisos. Ahora estoy en el piso



Escribe acá la expresión numérica

3.- RESOLUCIÓN DE PROBLEMAS

Lee atentamente cada uno de los problemas, identifica que operación hay que realizar en cada uno, finalmente encierra en un círculo la respuesta correcta.

a)

Jorge compró un dulce a \$15 y una galleta a \$35. ¿Cuánto dinero gastó?

Para saber la respuesta yo: sumaré (+) restaré (-)

Gastó: \$35 \$45 \$50

b)

Marcela quiere comprar un cepillo que cuesta \$50 y sólo tiene \$42. ¿Cuánto dinero le falta?

Para saber la respuesta yo: sumaré (+) restaré (-)

Gastó: \$8 \$18 \$28

c)

Martín ha leído 24 páginas de un libro que tiene 48 páginas en total. ¿Cuántas páginas le faltan por leer?

Para saber la respuesta yo: sumaré (+) restaré (-)

Gastó: 18 páginas 24 páginas 28 páginas

COLEGIO SAN FELIPE
RBD 24966-1
Avda. Laguna Sur 7241
Fono: 232753100
PUDAHUEL
direccion24966@gmail.com



Corporación Educacional A y G

*“Familia y Colegio, pilar de
formación de nuestros
niños y jóvenes”*